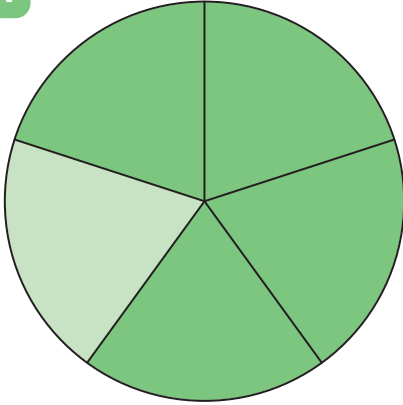



• Encercla la fracció que representa la part pintada respecte del total en cada gràfic:

**A**

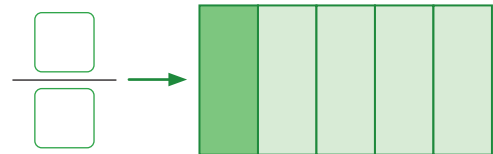
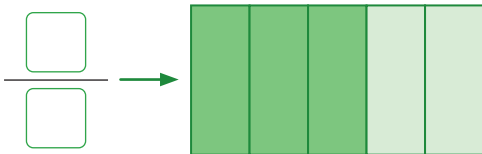


**B**



- |          |       |       |       |       |       |       |
|----------|-------|-------|-------|-------|-------|-------|
| <b>A</b> | $1/4$ | $5/4$ | $4/5$ | $2/4$ | $2/5$ | $4/4$ |
| <b>B</b> | $2/8$ | $5/8$ | $8/4$ | $2/8$ | $4/8$ | $4/4$ |

• Escriu la fracció que representa la part pintada en cada cas:



• Representa gràficament les fraccions següents:

