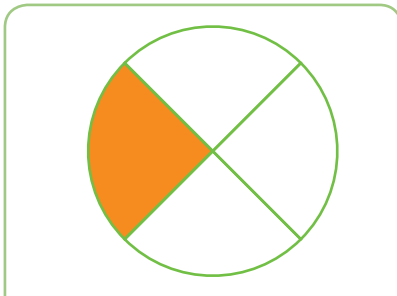


## OBSERVEM I ANALITZEM

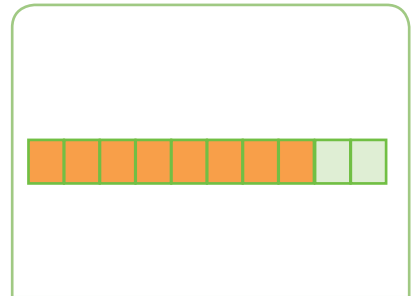
- 1 Observa els gràfics següents i esbrina quines fraccions hi ha representades. Escriu-les també amb lletres:



Amb paraules: .....



Amb paraules: .....




Amb paraules: .....


## ANALITZEM

- 2 Fixa't en les representacions de les fraccions  $\frac{2}{6}$  i  $\frac{6}{18}$  i contesta:

$\frac{2}{6}$



$\frac{6}{18}$



- La part pintada en el rectangle de la fracció  $\frac{2}{6}$  és més gran, igual o més petita que la fracció  $\frac{6}{18}$ ? .....
- Quin és el resultat de dividir el numerador de les dues fraccions? .....  
I els denominadors? .....