





IDENTIFIQUEM

- 1 Ressegueix les figures geomètriques següents i escriu-ne els noms a sota:



.....

CLASSIFIQUEM

- 2 Digues de què tenen forma aquests objectes:

- El comandament del televisor:
- Un CD:
- La vela d'una embarcació:
- El marc d'un quadre de costats iguals:

APLIQUEM

- 3 Dibuixa els 4 objectes de l'activitat anterior, que tenen formes diferents, i ressegueix les figures geomètriques que hi trobes: